

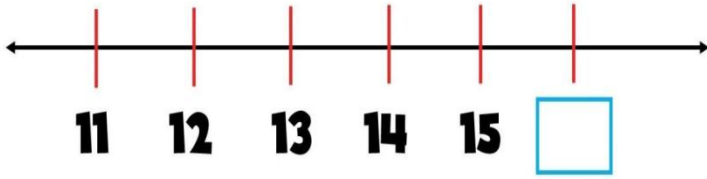
1- दी गई संख्याओं की तुलना करने के लिए '<', '>' या '=' का प्रयोग कीजिए: 12 \_ 17

1  >

2  <

3  =

2- दिए गए चित्र में शृंखला की लुप्त संख्या 15 होनी चाहिए। हाँ या नहीं?



1  हाँ

2  नहीं

3- दिए गए विकल्पों में से सबसे छोटी कौन-सी है?

1  11

2  15

3  18

4  10

4- दी गई संख्याओं में से कौन-सी संख्या 12 से बड़ी है?

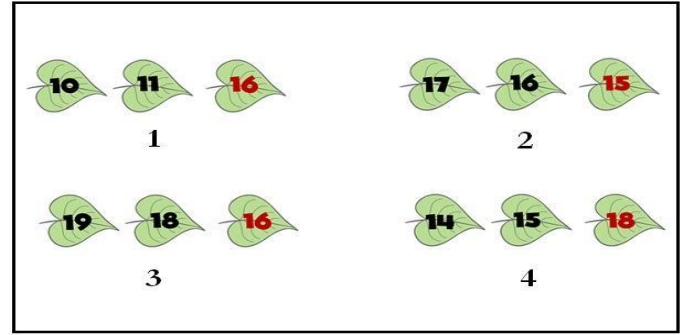
1  9

2  11

3  14

4  10

5- दिए गए चित्र में संख्याओं के घटते क्रम को पहचानिए।



1  1

2  2

3  3

4  4

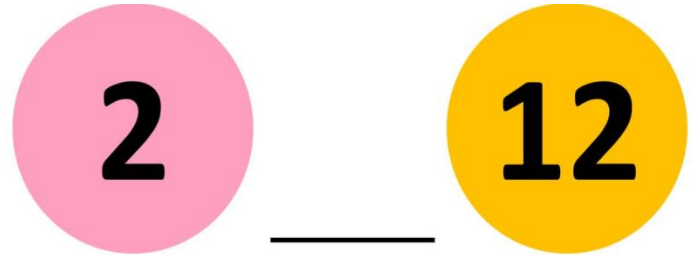
6- दी गई संख्याओं की तुलना करने के लिए '>', '<' या '=' का प्रयोग कीजिए। 16 \_ 16

1  =

2  <

3  >

7- दी गई संख्याओं की तुलना करने के लिए किस चिह्न का उपयोग किया जाएगा?



1  >

2  <

3  =

4  इनमें से कोई नहीं

8- सही या गलत बताइए: 18 > 10

1  सही

2  गलत

1-: The ladyfinger is \_\_\_\_ in colour.




- 1  red
- 2  green
- 3  blue
- 4  orange

2-: What is red in colour?

- 1  Brinjal
- 2  Tomato
- 3  Spinach
- 4  Cabbage

3- Name the vegetable.



- 1  Potato
- 2  Peas
- 3  Capsicum
- 4  Cauliflower

4- Name the vegetable shown.




- 1  Turnip
- 2  Cabbage
- 3  Pumpkin
- 4  Ginger

5- Which vegetable is shown in the picture?



- 1  Cucumber
- 2  Carrot
- 3  Chilli
- 4  Peas

6- Which of these is a vegetable?



- 1  1
- 2  2
- 3  3
- 4  4

7- Which vegetable is shown in the picture?



- 1  Ladyfinger
- 2  Brinjal
- 3  Spinach
- 4  Onion

8- Name the vegetable shown in the picture.



- 1  Spinach
- 2  Cabbage
- 3  Cauliflower
- 4  Ladyfinger

## कार्यालय

कक्षा :-4

विषय : MATH

विद्यार्थी का नाम :

सौजन्य से :- राजकीय उच्च प्राथमिक विद्यालय, बीरवाड़ा, केकड़ी (अजमेर) साप्ताहिक विद्यार्थी 51 (18-24 अक्ट. 2021 (सप्ताह 10))

1- 3020 मीटर = \_\_\_\_\_

1□□ 30 किलोमीटर 20 मीटर

2□□ 300 किलोमीटर 20 मीटर

3□□ 3 किलोमीटर 20 मीटर

4□□ 3000 किलोमीटर 2 मीटर

2- कितने मीटर मिलकर एक किलोमीटर बनाते हैं?

1□□ 100

2□□ 1000

3□□ 10000

3- दी गयी लंबाई को मीटर में बदलिए: 17 किलोमीटर

450 मीटर = \_\_\_ मीटर

1□□ 17450

2□□ 17.450

3□□ 170

4□□ 521

4- 109 किलोमीटर में कितने मीटर हैं?

1□□ 10900 मीटर

2□□ 109000 मीटर

3□□ 1090 मीटर

5- नदी की लंबाई मापने के लिये आप किस इकाई का प्रयोग करेंगे?

1□□ मीटर

2□□ सेंटीमीटर

3□□ मिलीमीटर

4□□ किलोमीटर

6- दर्शाये गये ऐफिल टावर की ऊंचाई मापने के लिये लंबाई मापने की उपयुक्त इकाई को चुनें।




1□□ मीटर

2□□ किलोमीटर

3□□ सेंटीमीटर

4□□ मिलीमीटर

7- नीली व्हेल की लंबाई मापने के लिये आप किस इकाई का प्रयोग करेंगे?




1□□ किलोमीटर

2□□ मिलीमीटर

3□□ मीटर

4□□ सेंटीमीटर

8- चित्र में दिये सोफे की लंबाई 450 \_\_\_ है।



1□□ मिलीमीटर

2□□ किलोमीटर

3□□ मीटर

4□□ सेंटीमीटर

1- Which word shows the combination of 'VCV'?

- 1  nodded                      2  lemon  
3  mug                              4  jug

2- Which word does not show the combination of 'VCC'?

- 1  act                                  2  art  
3  planet                              4  egg

3- : Which word does not show the combination of 'VC'?

- 1  pet                                      2  visit  
3  mug                                      4  tub

4- Which of the following combinations is the word 'limit' made of?


- 1  VC                                      2  CVC  
3  VCV                                      4  None of the above

5- What do you see in the given picture?



- 1  duck  
2  dog  
3  fan  
4  mug

6- What do you see in the given picture?



- 1  hen                                      2  fan  
3  pig                                      4  rat

7- Complete the word with an appropriate vowel. le\_\_f.



- 1  a    2  i  
3  o    4  u

8- Fill in the blank: The object in the given picture is a 'gi\_\_'.



- 1  ft    2  st  
3  gh    4  ht



1- 3020 मीटर = \_\_\_\_\_

1  30 किलोमीटर 20 मीटर

2  300 किलोमीटर 20 मीटर

3  3 किलोमीटर 20 मीटर

4  3000 किलोमीटर 2 मीटर

2- कितने मीटर मिलकर एक किलोमीटर बनाते हैं?

1  100

2  1000

3  10000

3- दी गयी लंबाई को मीटर में बदलिए: 17 किलोमीटर

450 मीटर = \_\_\_ मीटर

1  17450

2  17.450

3  170

4  521

4- 109 किलोमीटर में कितने मीटर हैं?

1  10900 मीटर

2  109000 मीटर

3  1090 मीटर

5- नदी की लंबाई मापने के लिये आप किस इकाई का प्रयोग करेंगे?



1  मीटर

2  सेंटीमीटर

3  मिलीमीटर

4  किलोमीटर

6- दर्शाये गये ऐफिल टावर की ऊंचाई मापने के लिये लंबाई मापने की उपयुक्त इकाई को चुनें।




1  मीटर

2  किलोमीटर

3  सेंटीमीटर

4  मिलीमीटर

7- नीली व्हेल की लंबाई मापने के लिये आप किस इकाई का प्रयोग करेंगे?




1  किलोमीटर

2  मिलीमीटर

3  मीटर

4  सेंटीमीटर

8- चित्र में दिये सोफे की लंबाई 450 \_\_\_ है।



1  मिलीमीटर

2  किलोमीटर

3  मीटर

4  सेंटीमीटर

1- Which word shows the combination of 'VCV'?

- 1  nodded                      2  lemon  
3  mug                              4  jug

2- Which word does not show the combination of 'VCC'?

- 1  act                              2  art  
3  planet                          4  egg

3- : Which word does not show the combination of 'VC'?

- 1  pet                              2  visit  
3  mug                              4  tub

4- Which of the following combinations is the word 'limit' made of?


- 1  VC                              2  CVC  
3  VCV                              4  None of the above

5- What do you see in the given picture?



- 1  duck  
2  dog  
3  fan  
4  mug

6- What do you see in the given picture?



- 1  hen                              2  fan  
3  pig                              4  rat

7- Complete the word with an appropriate vowel. le\_\_f.



- 1  a                              2  i  
3  o                              4  u

8- Fill in the blank: The object in the given picture is a 'gi\_\_'.



- 1  ft                              2  st  
3  gh                              4  ht